

Московская олимпиада школьников. История. 5 класс. Отборочный этап, 2021/22

15 дек 2021 г., 09:00 — 16 янв 2022 г., 23:59

№ 1

1 балл

Согласно сочинениям древнегреческого философа Платона, этот город-государство был уничтожен в один день землетрясением и последовавшим цунами. Реальность его существования большинством исследователей ставится под вопрос, а многие и вовсе считают историю о существовании города вымыслом. Однако легенда находит множество последователей и по сей день, а мифологические следы выживших жителей сторонники реальности существования этого государства находят в египетских пирамидах и прочих великих сооружениях древности. Укажите название этого легендарного государства.

Эльдorado

Мачу-Пикчу

Пангея

Атлантида

Аркаим

Гиперборея

5 баллов

Из предложенных утверждений выберите верное.

Главной отличительной чертой древнего человека от животных было

- умение коллективно охотиться
- умение изготавливать орудия труда
- умение подавать сигналы голосом

Древнейший человек кормил себя и своих соплеменников на протяжении многих недель

- тушей убитого на охоте мамонта
- выращенной на поле картошкой
- молоком одомашненной коровы

Начиная строительство пирамиды, фараон рассчитывал

- добиться удачи в военных походах
- решить проблему ирригации окружающих территорий
- обеспечить себе лучшую жизнь в загробном мире

Выберите верное утверждение.

- Изобретатели стекла, создатели первого алфавита, искусные мореплаватели – всё это описания финикийцев.
- Прямохождение, умение создавать орудия труда, умение добывать огонь – всё это признаки дриопитеков.
- «Читай мудрости написанные в древних папирусах, почитай фараона и жрецов», – говорил Конфуций.

Выберите верное утверждение.

- Начало образования Древнерусского государства связывают с призванием на Русь варягов.

Крещение Руси по католическому обряду позволило Руси приобщиться к христианской культуре.

Начало княжения Олега в Киеве положило конец ордынскому владычеству.

№ 3

1 балл

Выберите название профессии, о которой идёт речь в тексте.

Став им, ты будешь освобождён от всяких повинностей, от работы мотыгой. Ты не будешь таскать корзины, не будут тебя сечь прутьями. Ты будешь выходить в белой одежде, тебя все будут почитать и приветствовать. Эти люди у ног владыки Египта и внимают словам его. Они – язык его величества, они выполняют предначертанное им.

жрец

писец





брахман

воин

торговец

1 балл

Перед вами изображения великих памятников древности. Изучите их и выполните задания.

1	 A black and white illustration of the Great Pyramids of Giza in Egypt. The Great Pyramid is the central focus, with the smaller pyramids of Khafre and Menkaure visible in the background under a cloudy sky.		
3	 A black and white illustration of the Colosseum in Rome, showing its iconic tiered arches and the surrounding urban landscape with trees and buildings.		
5	 A black and white illustration of the Temple of Solomon in Jerusalem, featuring a large central dome and a portico with columns, set in a landscape with a path leading to the entrance.		
7	 A black and white illustration of the Statue of Liberty in New York Harbor. The statue stands on a pedestal, holding a torch and a tablet, with a ship in the water in the foreground.		
2	4	6	8

Все они, кроме одного, могут быть объединены общим названием. Какое общее название носят данные сооружения? Обратите внимание на то, что среди изображений есть лишнее.

Семь чудес света

Великие памятники древнего Междуречья

Золотое кольцо России

Памятники всемирного наследия ЮНЕСКО

1 балл

Укажите номер лишнего изображения.

1

2

3

4

5

6

7

8

1 балл

Укажите номер памятника, находившегося, согласно мифу, в городе, в котором располагалась одна из крупнейших библиотек древнего мира.

1

2

3

4

5

6

7

8

1 балл

Укажите номер изображения памятника, сохранившегося до наших дней (исключая лишнее изображение).

1

2

3

4

5

6

7

8




1 балл



Считается, что это сооружение простояло всего 50 лет, а потом сильно пострадало во время землетрясения. Его остатки простояли почти восемь веков, пока не были окончательно разобраны. Как писал античный историк Страбон, даже фрагменты были столь большими, что лишь немногие могли обхватить обеими руками маленькую часть объекта. Укажите название острова, где располагался данный памятник.


Ответ

1 балл

Определите изображение этого памятника.







7 баллов

Рассмотрите карту.



Выберите верные суждения относительно представленной карты.

- На карте обозначены территории Междуречья.
- На карте обозначена столица Нижнего Египта.
- Все памятники, изображённые на схеме, были созданы до нашей эры.
- На карте обозначен торговый путь «из варяг в греки».
- Часть территорий, обозначенных на схеме, входит в состав современной России.
- Красными линиями на карте обозначены границы государств древнего мира.

Согласно схеме, добыча золота велась в отдельных районах Древнего Египта и Финикии.

Основные районы земледелия находились в низменностях и долинах рек.

Оазисы располагались преимущественно в районах гор и возвышенностей.

Основная добыча камня велась на Аравийском полуострове.

На карте обозначен самый древний город в истории.

На территории Синайского полуострова добывали медь.

На острове, обозначенном в Средиземном море, находился один из известнейших памятников Древнего мира, сохранившийся до наших дней, в виде мифического животного с телом льва и головой человека.

На представленной схеме обозначен город, в котором правил царь, с чьим именем связывают появление первого в истории человечества письменного свода законов.

На карте обозначен город, построенный вследствие религиозной реформы, проведённой одним из фараонов Древнего Египта.

3 балла

Выберите изображения, которые связаны с городами, обозначенными на карте.







№ 12 – 13

1 балл

Согласно мифам, первое такое состязание прошло в 776 г. до н. э. и было учреждено самим Гераклом. Проводились состязания летом раз в 4 года, а в период соревнований заключалось священное перемирие – запрет на ведение войн. Продлившись более десяти столетий, эти состязания угасли, однако были возрождены уже в наше время, но теперь проводятся ещё и зимой. Запишите название места, в честь которого было названо данное состязание.

Ответ


3 балла

Выберите иллюстрации, связанные с этими состязаниями.


1




2



3



4



5



6



1

2

3

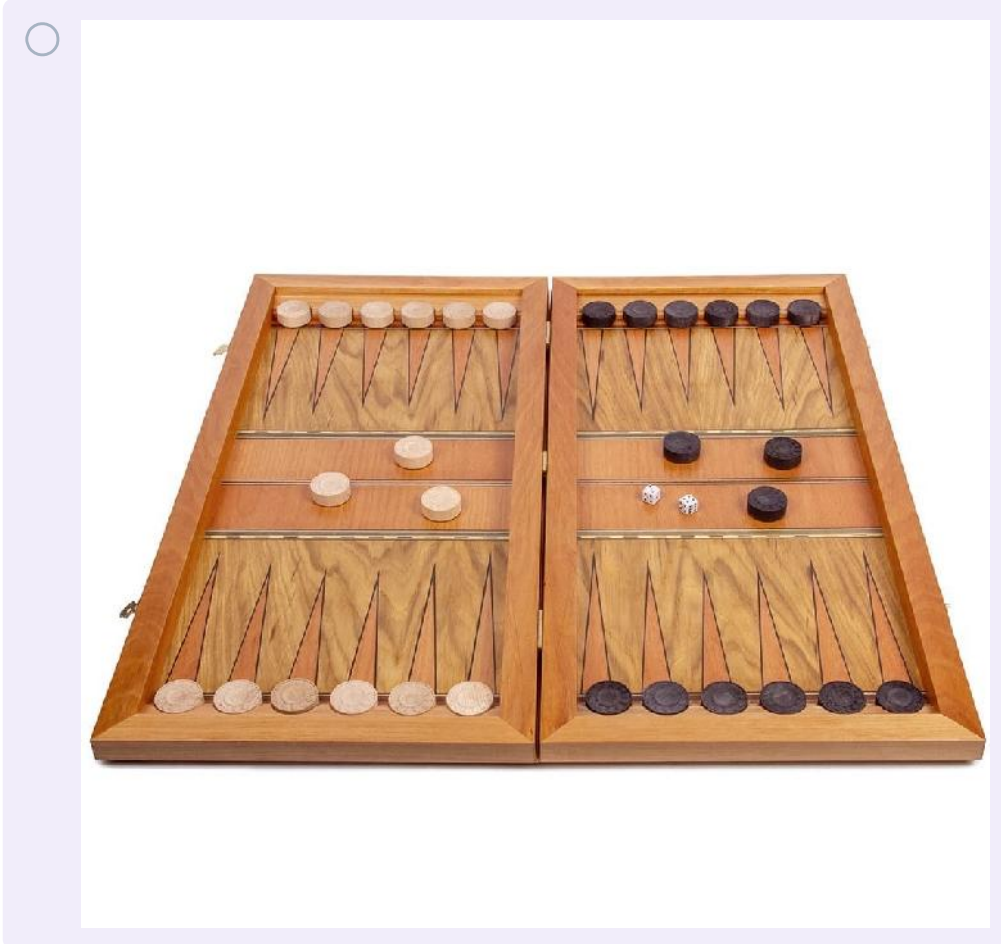
4


5

6

1 балл

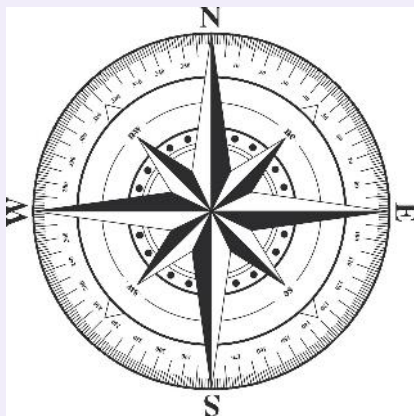

В Индии величайшей мудростью царя считалось искусное умение управлять войском. По одной из версий, для подготовки будущих царей была создана эта игра, позволявшая научиться управлять войском и государством. Выберите иллюстрацию, на которой она приведена.





5 баллов

Выберите те изобретения, которые были созданы в течение нашей эры.







3 балла

Прочитайте текст и выполните задания.

«Через несколько лет на израильский народ снова напали их враги, филистимляне. Из вражеского войска выступил один воин, по имени Голиаф. Он был необычайно высок ростом и силен. Голиаф был весь закован в железную броню, имел длинное копьё и медный щит. Громко насмехаясь над противниками, Голиаф крикнул им:

— Пусть из вашего войска выйдет кто-нибудь и сразится со мной! Если он убьёт меня, то наши воины будут вашими рабами, а если я убью его, то вы все будете нашими рабами.

Но никто не смел сразиться с таким великаном. Израильский царь Саул и его воины страшно испугались. В это время в лагерь пришёл юноша Давид, который развлекал царя Саула игрою на арфе. Его братья служили в войске, и он принёс им хлеб и сыр. Братья рассказали ему про Голиафа. Давид возмущился, что этот великан позорит Израиль, и воскликнул:

— Я сам сражусь с этим великаном! Хотя я и не такой сильный, как Голиаф, но Бог поможет мне. Сколько раз медведи и львы уносили из моего стада овец, и я почти всегда отнимал у них добычу и убивал их.

С этими словами Давид взял пастушеский посох, пять гладких небольших камней и пошёл к Голиафу. Великан, увидев, что к нему идёт юноша, сказал ему:

— Что ты идёшь на меня, как на собаку, с палкой и с камнями? Вот подойди только, я отдам твоё тело на съедение зверям!

Но Давид отвечал:

— Ты хвастаешься и гордишься, что ты такой сильный и имеешь такое длинное копьё, и думаешь, что это поможет тебе. А я надеюсь на Господа Бога, и Он поможет мне одолеть тебя.

С этими словами Давид бросил камень и попал прямо в лоб Голиафу. Он зашатался и рухнул на землю замертво.

Неприятельские полки бросились бежать».

Выберите верные суждения на основании информации, полученной из текста.

- До описанных в тексте событий филистимляне уже напали на израильтян.
- Голиаф был царём филистимлян.
- До описанных в тексте событий Давид занимался скотоводством.
- Согласно тексту, основу израильского войска составляли всадники.
- Израильское войско было готово в любой момент бесстрашно вступить в битву с филистимлянами.
- В описанных во фрагменте событиях израильское войско не понесло потерь.
- Перед описанной во фрагменте схваткой противники обменялись традиционным приветствием, пожелав друг другу удачи.
- Давид впоследствии стал царём Израиля.

1 балл

Выберите изображение, сюжетно связанное с описываемыми событиями.

А




Б



В



Г



Д








5 баллов

Рассмотрите плакаты. Выберите те, которые относятся к периоду Великой Отечественной войны.





ДОБРО ПОЖАЛОВАТЬ В МОСКВУ!





**БЕСПОЩАДНО
РАЗГРОМИМ
И УНИЧТОЖИМ
ВРАГА!**



КУКЪНИЦЫ-41.



**ВОИНУ-ПОБИТЕЛЮ-
ВСЕНАРОДНАЯ ЛЮБОВЬ!**



